



General Certificate of Secondary Education
2025

Uimhir Lárionaid

--	--	--	--	--

Uimhir Iarrthóra

--	--	--	--	--

Corpoideachas

Páipéar 1

Tosca a Chuireann Taca
Faoi Shláinte agus Faoi
Fheidhmíocht



[G9771]

G9771

DÉ LUAIN 19 BEALTAINÉ, IARNÓIN

AM

1 uair 15 nóiméad.

TREOIR D'IARRTHÓIRÍ

Scríobh d'Uimhir Lárionaid agus d'Uimhir Iarrthóra sna spásanna chuige sin ag barr an leathanaigh seo.

Ní mór duit na ceisteanna a fhreagairt sna spásanna chuige sin.

Ná scríobh taobh amuigh den achar bhoscáilte ar gach leathanach ná ar leathanaigh bhána.

Comhlánaigh le dúch dubh amháin. **Ná scríobh le peann glóthaí.**

Freagair **gach** ceist.

EOLAS D'IARRTHÓIRÍ

Is é 100 an marc iomlán don pháipéar seo.

Léiríonn figiúirí idir lúibíní atá priontáilte ar thaobh na lámhe deise de leathanaigh na marcanna atá ag dul do gach ceist nó do gach cuid de cheist.

Measúnófar caighdeán na cumarsáide scríofa i gceisteanna **7, 13(a)** agus **14**.

14712.09R



28G977101

1 Léigh na ráitis thíos agus roghnaigh an **ceann ceart** trí thic a chur sa bhosca.

(a) Is é atá sa chóras **riospráide** ná:

A	ailbheolais, broincíní, croí, matáin	
B	ailbheolais, broncais, croí, teannáin	
C	ailbheolais, broincíní, broncais, traicé	

[1]

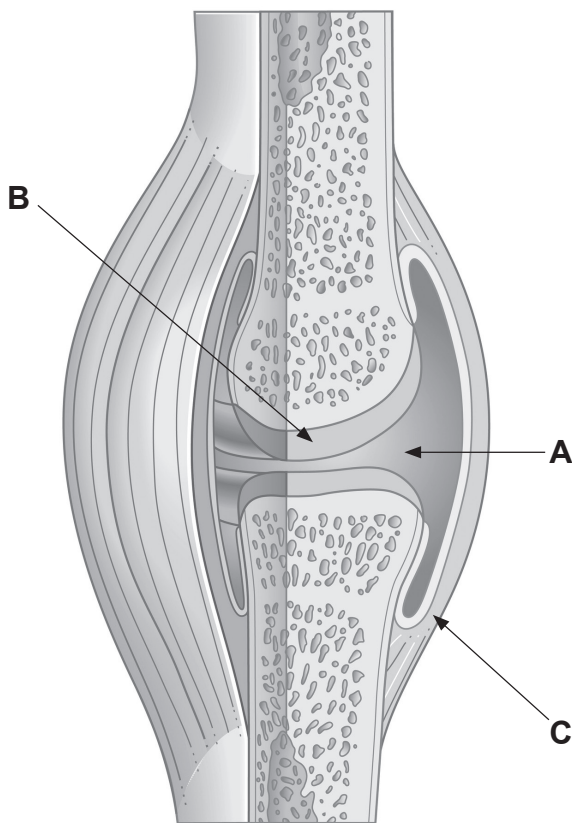
(b) Is éifeacht **láithreach** aclaíochta é:

A	méadú ar an ráta croí	
B	laghdú ar an scíthráta croí	
C	méadú ar mhais na matán	

[1]



2 Taispeánann Fíor 1 struchtúr alt na glúine.



Foinse: © Getty Images

Fíor 1

(a) Sainaithin na struchtúir A, B agus C atá lipéadaithe i bhFíor 1.

A _____ [1]

B _____ [1]

C _____ [1]

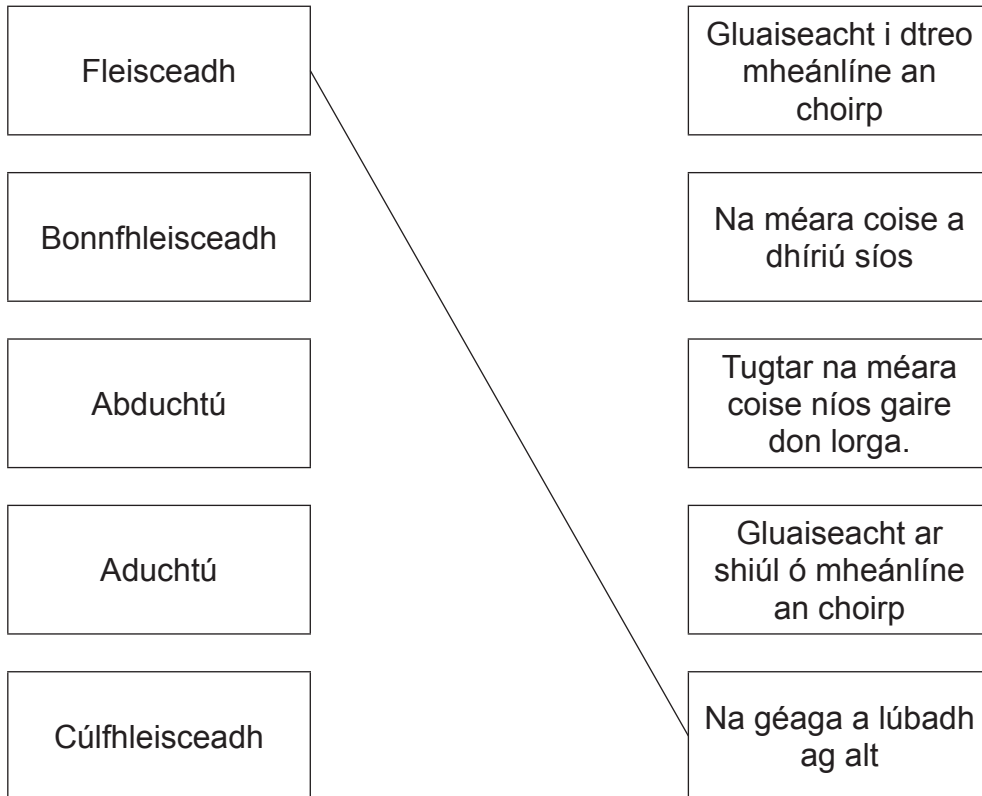
(b) Mínigh an dóigh a dtugann struchtúr C seasmhacht d’alt sionóibhiach.

_____ [2]

[Tiontaigh an leathanach



3 Tarraing líne chuig an tsainmhíniú cheart le gach patrún gluaiseachta a mheaitseáil. Tá fleisceadh déanta duit.



[4]





LEATHANACH BÁN

NÁ SCRÍOBH AR AN LEATHANACH SEO

(Leanann ceisteanna ar an chéad leathanach eile)


[Tiontaigh an leathanach

14712.09R




28G977105

- 4 Taispeánann íomhánna **A**, **B**, **C** agus **D** crapadh iseatonach agus crapadh isiméadrach ag tarlú i gceithre ghníomhaíocht éagsúla.



Íomhá A
Suí in aghaidh balla



Íomhá B
Rith



Íomhá C
Cuachadh bícípse



Íomhá D
Seasamh lámh

Foinse: © Getty Images



(a) Sainaithin cé acu crapadh **iseatonach** nó crapadh **isiméadrach** atá de dhíth ar an ghníomhaíocht le **Tábla 1** a chomhlánú.

Tábla 1

Íomhá	Cineál craptha
A: Suí in aghaidh balla	
B: Rith	
C: Cuachadh bícéipse	
D: Seasamh lámh	

[4]

(b) Luaigh **aon** difríocht **amháin** idir crapadh iseatonach agus crapadh isiméadrach.

[2]

[Tiontaigh an leathanach

14712.09R



28G977107

- 5 Déan staidéar ar **Thábla 2** a thaispeánann an briseadh síos ar shnáithíní matáin de chineál I (mallbhíogach) agus de chineál II (mearbhíogach) do bheirt lúthchleasaithe.

Tábla 2

Lúthchleasaí	Snáithíní matáin chineál I (mallbhíogach)	Snáithíní matáin chineál II (mearbhíogach)
A	85%	15%
B	25%	75%

- (a) Luaigh agus mínigh **imeacht lúthchleasaíochta** a bheadh ar an cheann is fóirsteanaí do **Lúthchleasaí A**.

Imeacht lúthchleasaíochta: _____ [1]

Míniú: _____

_____ [2]

- (b) Luaigh agus mínigh **imeacht lúthchleasaíochta** a bheadh ar an cheann is fóirsteanaí do **Lúthchleasaí B**.

Imeacht lúthchleasaíochta: _____ [1]

Míniú: _____

_____ [2]





6 Míneigh an dóigh a gcuidíonn na feidhmeanna seo a leanas den **néarchóras** le himreoir cluiche liathróid a cheapadh i gceart.

Feidhm chéadfach _____

_____ [2]

Feidhm léirmhínitheach _____

_____ [2]

Feidhm luadrach _____

_____ [2]

[Tiontaigh an leathanach

14712.09R



28G977109

8 Is cothaitheach tábhachtach in aiste chothromaithe bia iad carbaihiodráití.

(a) Luaigh dhá chothaitheach eile agus cuir síos ar fheidhm dhifriúil le gach ceann acu.

Cothaitheach 1 _____

Feidhm _____

_____ [2]

Cothaitheach 2 _____

Feidhm _____

_____ [2]

(b) Mínigh dhá thoisic ba chúis le hiontógáil dhifriúil calraí a bheith molta do dhaoine aonair.

Toisc 1 _____

_____ [2]

Toisc 2 _____

_____ [2]

[Tiontaigh an leathanach

14712.09R



28G977111

9 (a) Sainmhínigh an téarma **fóillíocht**.

[1]

(b) Luaigh sampla de ghníomhaíocht fóillíochta **ghníomhach**.

[1]

(c) Luaigh sampla de ghníomhaíocht fóillíochta **éighníomhach**.

[1]

10 Is é Sport NI an príomhchomhlacht maidir le forbairt an spóirt i dTuaisceart Éireann.

Luaigh **dhá** aidhm atá ag **Sport NI**.

1. _____

[1]

2. _____

[1]



11 Luaigh trí dhóigh ar féidir leis an **earnáil phoiblí** rannpháirtíocht i ngníomhaíocht coirp a chur chun cinn.

1. _____
_____ [1]

2. _____
_____ [1]

3. _____
_____ [1]

[Tiontaigh an leathanach

14712.09R



28G977113

12 Taispeánann **Tábla 3** torthaí ar thástálacha corpacmhainne do dhalta i mBliain 12 atá ag obair le **fulangacht aeróbach** agus **fulangacht mhatánach** a fheabhsú.

Tábla 3

Tástáil Corpacmhainne	Seachtain 1	Seachtain 2	Seachtain 3	Seachtain 4	Seachtain 5	Seachtain 6
Rith Cooper 12-nóiméad	1450 m	1500 m	1550 m	1600 m	1650 m	1700 m
Tástáil suí aniar	35 iarraidh	33 iarraidh	33 iarraidh	32 iarraidh	31 iarraidh	30 iarraidh

(a) Agus na sonraí i **dTábla 3** in úsáid agat, déan anailís ar thorthaí na dtástálacha corpacmhainne thar na sé seachtaine.

Rith Cooper 12-nóiméad _____

_____ [2]

Tástáil suí aniar _____

_____ [2]



(b) Leag síos cuspóir **SICRU (SMART)** le cuidiú leis an dalta sin a chorpacmhainn a fheabhsú.

[2]

(c) Luaigh **dhá** sprioc le cuidiú leis an duine an cuspóir SICRU (**SMART**) a leagadh síos in (b) a bhaint amach.

1. _____

[1]

2. _____

[1]

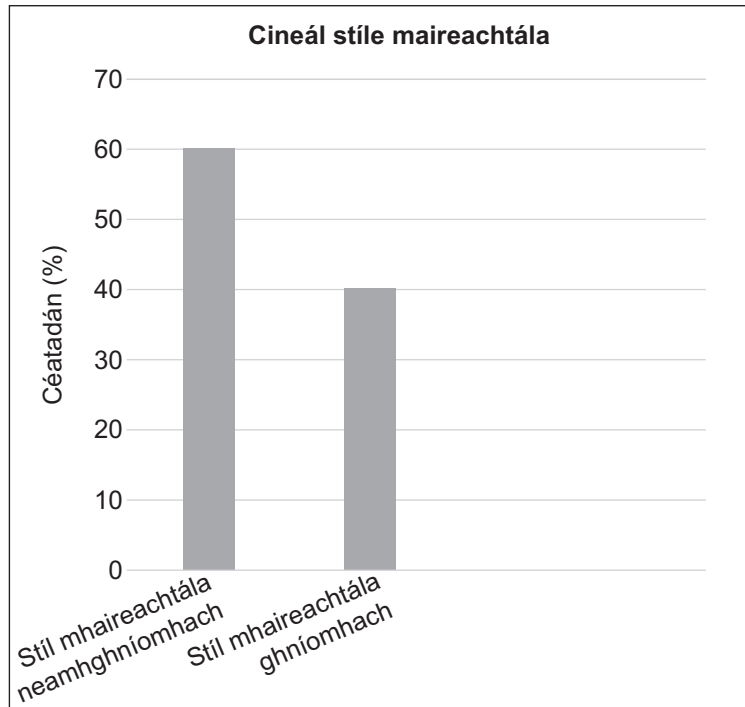
[Tiontaigh an leathanach



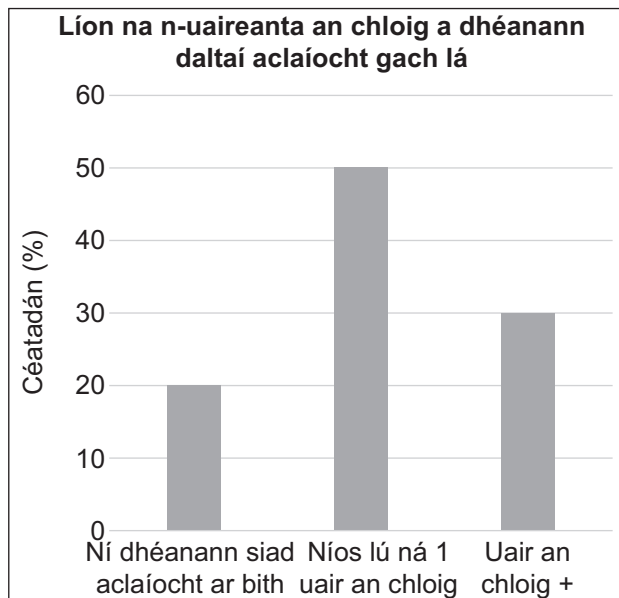
13 Rinne scoil **suirbhé ar ghníomhaíocht coirp** le daltaí i mBliain 12. Bhí na ceisteanna seo a leanas sa tsuirbhé:

1. An bhfuil do stíl mhaireachtála neamhghníomhach (i do shuí ar feadh tréimhsí fada ama) nó gníomhach?
2. Cá fhad a bhíonn tú ag déanamh aclaíochta gach lá?
3. Má dhéanann tú aclaíocht, cad é déine na hoibre?

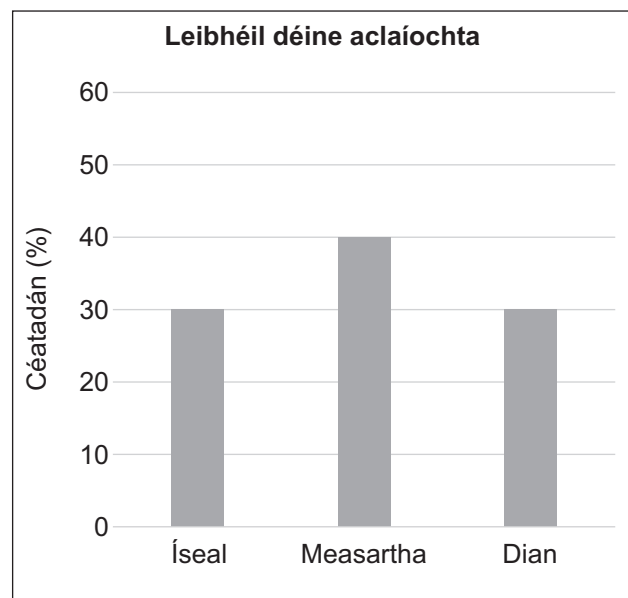
Taispeántar na torthaí i **bhFíor 2**, **Fíor 3** agus **Fíor 4**.



Fíor 2



Fíor 3



Fíor 4



(a) Agus na sonraí i bhFíor 2, Fíor 3 agus Fíor 4 in úsáid agat, déan comparáid idir an cineál de stíl mhaireachtála atá ag an dalta, an méid ama agus a dhéine a dhéanann daltaí aclaíocht i gcomparáid le treoirlínte na Gníomhaireachta Sláinte Poiblí (PHA) maidir le gníomhaíocht coirp.

Measúnófar caighdeán na cumarsáide scríofa i do fhreagra.

Stíl mhaireachtála _____

Méid ama _____

Déine _____

_____ [9]

[Tiontaigh an leathanach

14712.09R



28G977117

(b) Luaigh **trí athrú phraiticiúla** a d'fhéadfadh daltaí a dhéanamh le treoirínte na Gníomhaireachta Sláinte Poiblí (*PHA*) maidir le gníomhaíocht coirp a chomhlíonadh.

1. _____ [1]

2. _____ [1]

3. _____ [1]

(c) I ndiaidh tuilleadh anailíse ar thorthaí an tsuirbhé, taispeánadh gur chaith bainearnaigh níos lú ama ag déanamh aclaíochta ná fireannairh.

Luaigh **trí** fháth a bhfuil leibhéil ghníomhaíochta níos lú ag bainearnaigh ná mar atá ag fireannairh.

1. _____ [1]

2. _____ [1]

3. _____ [1]





14 Mínigh an dóigh ar féidir le gach toisc atá luaite cuidiú le **rannpháirtíocht leanúnach** a bhaint amach i ngníomhaíochtaí coirp agus i spóirt.

Measúnófar caighdeán na cumarsáide scríofa i do fhreagra.

Meabhairshláinte _____

Saoráidí _____

Teaghlach _____

_____ [9]

[Tiontaigh an leathanach

14712.09R



28G977119

LEATHANACH BÁN
NÁ SCRÍOBH AR AN LEATHANACH SEO

14712.09R



28G977120



15 D'eagraigh an club óige áitiúil rith spraoi le hairgead a thiomsú faoi choinne trealamh don chlub.

Taispeánann **Tábla 4** an tuarascáil airgeadais ar an **ioncam ionchasach** ag céim na pleanála agus an **t-ioncam iarbhír** i ndiaidh gur críochnaíodh an t-imeacht.

Tábla 4

Ioncam ionchasach ag céim na pleanála		Ioncam iarbhír i ndiaidh an imeachta	
Deontas ón chomhairle áitiúil	£2000	Deontas ón chomhairle áitiúil	£2000
Táille iontrála £1 an reathaí	£300	Táille iontrála £1 an reathaí	£150
iomlán	£2300	iomlán	£2150

(a) Déan staidéar ar **Thábla 4** agus luaigh **dhá** dhóigh a bhféadfaí an **t-ioncam** a mhéadú ag céim na pleanála.

1. _____
_____ [1]

2. _____
_____ [1]

[Tiontaigh an leathanach



Taispeánann **Tábla 5** an tuarascáil airgeadais ar an **caiteachas ionchasach** ag céim na pleanála agus an **caiteachas iarbhír** i ndiaidh gur críochnaíodh an t-imeacht.

Tábla 5

Caiteachas ionchasach ag céim na pleanála		Caiteachas iarbhír i ndiaidh an imeachta	
Pá don fhoireann Maoir × 8	£320	Pá don fhoireann Maoir × 8	£320
Maor carrchlóis × 2	£80	Maor carrchlóis × 2	£80
Árachas	£300	Árachas	£400
Trealamh (téip/cóin)	£100	Trealamh (téip/cóin)	£100
Fógraíocht	£200	Fógraíocht	£200
Uisce	£100	Uisce	£100
Teastais do reathaithe	£150	Teastais do reathaithe	£150
Iomlán	£1250	Iomlán	£1350
Brabús ionchasach (ioncam ionchasach – caiteachas ionchasach)	£1050	Brabús iarbhír (ioncam iarbhír – caiteachas iarbhír)	£800



(b) Déan staidéar ar na sonraí i **dTábla 5** agus luaigh **ceithre** dhóigh ar féidir an **caiteachas** a laghdú leis an bhrabús iarbhír a mhéadú.

1. _____
_____ [1]

2. _____
_____ [1]

3. _____
_____ [1]

4. _____
_____ [1]

[Tiontaigh an leathanach

14712.09R



28G977123

16 Tá tú freagrach as comórtas badmantain **díbeartha** a eagrú agus a réachtáil **d’ochtar daltaí atá cosúil lena chéile ó thaobh cumas imeartha**. Beidh an comórtas ar siúl sa halla spóirt.

(a) Cruthaigh an **tarraingt** don chomórtas díbeartha ón **chéad bhabhta go dtí an babhta ceannais**.



[6]



(b) Míneigh an dóigh a gcinnteofar **an tríú háit** sa chomórtas díbeartha.

[1]

(c) Luaigh **dhá** shampla den dóigh a n-úsáidfeá **scileanna cumarsáide** agus **scileanna eagrúcháin** leis an chomórtas a phleanáil agus a réachtáil go héifeachtach.

Cumarsáid _____

[1]

Cumarsáid _____

[1]

Eagrúchán _____

[1]

Eagrúchán _____

[1]

SEO DEIREADH AN SCRÚDPHÁIPÉIR

14712.09R



28G977125

LEATHANACH BÁN
NÁ SCRÍOBH AR AN LEATHANACH SEO

14712.09R



28G977126





LEATHANACH BÁN

NÁ SCRÍOBH AR AN LEATHANACH SEO

14712.09R



28G977127

NÁ SCRÍOBH AR AN LEATHANACH SEO

Don Scrúdaitheoir amháin	
Uimhir Ceiste	Marcanna
1	
2	
3	
4	
5	
6	
7	
8	
9	
10	
11	
12	
13	
14	
15	
16	

Marc Iomlán	
--------------------	--

Uimhir Scrúdaitheora

Cuireadh isteach ar chead chun an t-ábhar cóipchirt uile a atáirgeadh.
I gcásanna áirithe is féidir nár éirigh le CCEA teagmháil a dhéanamh le húinéirí cóipchirt agus beidh sé sásta na hadmhálacha sin a fágadh ar lár a chur ina gceart amach anseo ach é a chur ar an eolas.

G9771/2
299784



28G977128